

Station 10 – Plätzchenrezept (Seite 1)

Plätzchenrezept

Für eine große Ladung Plätzchen brauchst du:

$$(2 \cdot 3 + 45 + 15 + 350 + 90 - 6) \text{ g Mehl} = \underline{\hspace{2cm}} \text{ g Mehl}$$

$$(100 : 2 + 30 + 20 + 450 - 300) \text{ g Butter} = \underline{\hspace{2cm}} \text{ g Butter}$$

$$(500 : 2 - 50) \text{ g Zucker} = \underline{\hspace{2cm}} \text{ g Zucker}$$


$$((8 - 6 : 2) - 3) \text{ Eier} = \underline{\hspace{2cm}} \text{ Stück Eier}$$

+ Vanille, Zitrone, Zimt

Aufgabe: Rechne alle Zutatenmengen aus!

LÖSUNG:

Aufgabe: Mach bitte die Aufgaben im Internet:



Station 10 – Plätzchen backen (Seite 2.)

Knete dafür alle Zutaten zu einem Teig zusammen

und stelle diesen für $(240 : 2)$ Minuten in den Kühlschrank. = _____ Minuten

Heize den Backofen auf $(1000 - 800 : 2 - 400)$ Grad vor. = _____ Grad




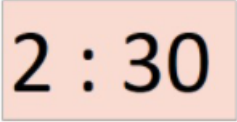

Rolle den Teig aus und stich die Plätzchen aus.

Backe diese für etwa $(25 : 2 \cdot 2 : 10)$ Minuten. = _____ Minuten

Fertig!

Aufgabe: Rechne die Mengen aus!

Aufgabe: Lies den Text noch einmal. Was ist die richtige Reihenfolge?

A	
B	
C	
D	
E	

Schreibe die Buchstaben in die Rubrik!

1.	2.	3.	4.	5.